

第二单元综合测评卷


时间：90分钟 分数：100分

题号	一	二	三	四	五	六	总分
得分							

一、填一填。(14分)

1. 观察讲台上的粉笔盒,从一个方向每次最少能看到()个面,最多能看到()个面。


2. 小华这样观察茶壶,他主要观察到茶壶的()面。

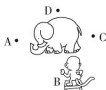
3.  (1)小丽拍到的主要是小熊的()面。
(2)小美拍到的主要是小熊的()面。
(3)小欢拍到的小熊的嘴巴应该在()边。(填“左”或“右”)
(4)小花拍到的小熊的嘴巴应该在()边。(填“左”或“右”)

二、选一选。(将正确答案的序号填在括号里)(10分)

1. 下面(A)号图是小鸟看到的。



2. 小猴在不同位置观察大象,  这幅图是小猴在()位置观察到的。



A. A点

B. B点

C. C点

D. D点

3. (教材第14页“练一练”第2题变式训练题)  这幅图是哪位同学看到的? 你的答案是()。



美美



森森



源源

A. 森森

B. 美美

C. 源源

4. 在③处位置看到的是()号图。



A.



B.



C.

5. 小熊观察到的是()号图。



A.



B.



C.



D.

三、下图是谁看到的图形? 用线连起来。(12分)



1.

亮亮

军军

甜甜

亮亮

军军

甜甜



2. (教材第14页“练一练”第3题变式训练题)(6分)



小光

小军



小军



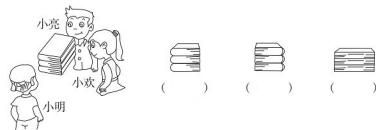
小光



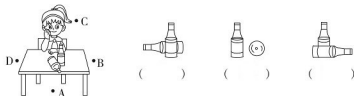
小美

四、仔细观察,正确填写。(37分)

1. 下面这些图分别是谁看到的? 请将名字填在下面的括号里。(9分)



2. (教材第16页“练一练”第2题仿练题) 下面三幅图是小佳坐在桌子的哪个位置观察到的?
填一填。(9分)




3. 下图是两座建筑物模型图。小辉、小军和小美分别站在不同的位置观察它, 下面三幅图分别是谁看到的? 请将名字写在图下的括号里。(9分)



4. (教材第16页“练一练”第3题变式训练题) 仔细观察和分析。(10分)



(1) 妈妈看到的是哪幅图? 请在括号里画“○”。(5分)



(2) 下面哪幅图是爷爷看到的? 请在括号里画“○”。(5分)



五、两辆汽车从摄影师面前开过, 摄影师拍摄了以下三幅图片。请你在()里标出摄影师的拍摄顺序。(12分)



六、看图填空。(数字在正方体每个面的正中间)(15分)



- 甜甜看到的是(), 森森看到的是(), 明明看到的是()。
- 欢欢说自己看到的数字最大, 她看到()。
- 军军说自己看到的数字比森森看到的数字大, 比欢欢看到的数字小, 他看到()。